

**576 + 69 = \_\_\_\_\_**

$$\begin{array}{r} 576 + 60 = 636 \\ 636 + 9 = 645 \end{array}$$

$$\begin{array}{r} 576 \\ + 60 \\ \hline 636 \end{array}$$

$$\begin{array}{r} 576 \\ + 9 = 585 \\ 585 + 60 = 645 \end{array}$$

$$\begin{array}{r} 576 \\ + 70 \\ \hline 646 \end{array}$$

**1** Rechne auf deinem Weg.

$$\begin{array}{r} 576 + 69 = \\ \hline \end{array}$$

$$\begin{array}{r} 638 + 76 = \\ \hline \end{array}$$

$$\begin{array}{r} 183 + 94 = \\ \hline \end{array}$$

$$\begin{array}{r} 767 + 54 = \\ \hline \end{array}$$

$$\begin{array}{r} 873 + 19 = \\ \hline \end{array}$$

$$\begin{array}{r} 392 + 88 = \\ \hline \end{array}$$

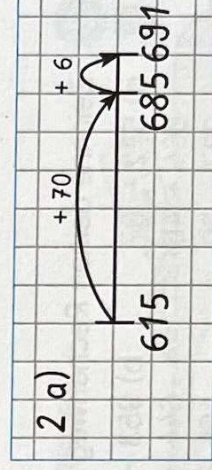
$$\begin{array}{r} 356 + 73 = \\ \hline \end{array}$$

$$\begin{array}{r} 584 + 67 = \\ \hline \end{array}$$

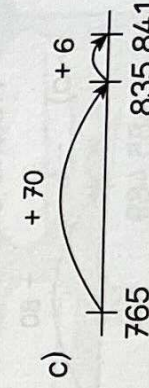
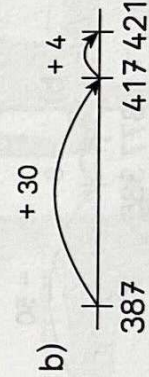
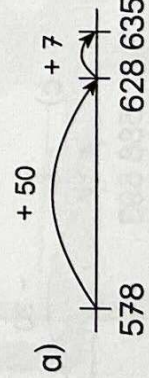
$$\begin{array}{r} 241 + 89 = \\ \hline \end{array}$$

**2** Zeichne deinen Rechenweg am Rechenstrich in dein Heft.

- a)  $615 + 76$     b)  $416 + 67$     c)  $256 + 68$   
 $419 + 28$      $658 + 72$      $387 + 45$   
 $726 + 47$      $286 + 18$      $189 + 93$



**3** Welche Additionsaufgaben sind es?



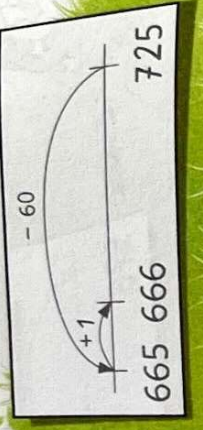

# Wiederholung und Vertiefung

Datum: \_\_\_\_\_

$725 - 59 = \underline{\quad}$

$$\begin{array}{r} 725 - 50 = 675 \\ 675 - 9 = 666 \end{array}$$

$$\begin{array}{r} 725 - 9 = 716 \\ 716 - 50 = 666 \end{array}$$



1 Reche auf deinem Weg.

$$\begin{array}{r} 725 - 59 = \\ \hline \end{array}$$

$$\begin{array}{r} 264 - 75 = \\ \hline \end{array}$$

$$\begin{array}{r} 372 - 81 = \\ \hline \end{array}$$

$$\begin{array}{r} 964 - 28 = \\ \hline \end{array}$$


$$\begin{array}{r} 645 - 67 = \\ \hline \end{array}$$

$$\begin{array}{r} 896 - 59 = \\ \hline \end{array}$$

$$\begin{array}{r} 657 - 85 = \\ \hline \end{array}$$

$$\begin{array}{r} 546 - 73 = \\ \hline \end{array}$$

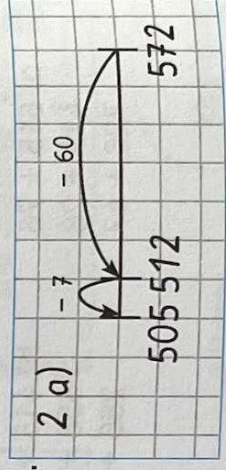
$$\begin{array}{r} 432 - 84 = \\ \hline \end{array}$$

2  Zeichne deinen Rechenweg am Rechenstrich in dein Heft.

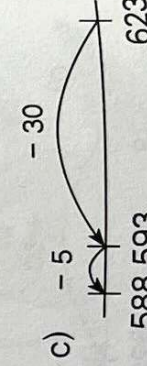
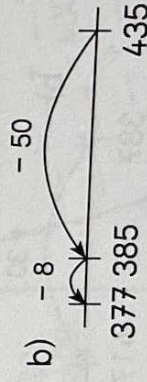
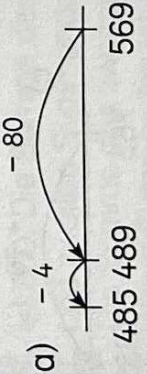
a)  $572 - 67$   
 $864 - 46$   
 $237 - 29$

b)  $953 - 37$   
 $644 - 28$   
 $465 - 79$

c)  $484 - 95$   
 $738 - 76$   
 $954 - 68$



3 Welche Subtraktionsaufgaben sind es?



a)  $485 - 4$

b)  $377 - 385$

c)  $588 - 593$

$569$

$435$

$623$

# Wiederholung und Vertiefung

Datum: \_\_\_\_\_



1 Rechnet geschickt. Erkläre den Rechenweg.

$763 + 59$

$402 + 398$

$598 + 25$



2 Rechne geschickt.

- a)  $899 + 37 =$  \_\_\_\_\_ b)  $852 + 69 =$  \_\_\_\_\_ c)  $198 + 248 =$  \_\_\_\_\_ d)  $492 + 208 =$  \_\_\_\_\_  
 $699 + 85 =$  \_\_\_\_\_  $684 + 39 =$  \_\_\_\_\_  $498 + 167 =$  \_\_\_\_\_  $694 + 106 =$  \_\_\_\_\_  
 $599 + 34 =$  \_\_\_\_\_  $173 + 49 =$  \_\_\_\_\_  $298 + 356 =$  \_\_\_\_\_  $593 + 307 =$  \_\_\_\_\_

3

Finde immer sechs Additionsaufgaben zu den Summen.


a)

$573$



b)

$999$



4

Rechnet geschickt. Erkläre den Rechenweg.



$834 - 69$

$529 - 523$

$472 - 199$

$753 - 98$



5

Rechne geschickt.


- a)  $651 - 99 =$  \_\_\_\_\_ b)  $692 - 79 =$  \_\_\_\_\_ c)  $985 - 499 =$  \_\_\_\_\_ d)  $689 - 682 =$  \_\_\_\_\_  
 $864 - 99 =$  \_\_\_\_\_  $458 - 49 =$  \_\_\_\_\_  $654 - 399 =$  \_\_\_\_\_  $274 - 266 =$  \_\_\_\_\_  
 $145 - 99 =$  \_\_\_\_\_  $276 - 39 =$  \_\_\_\_\_  $537 - 299 =$  \_\_\_\_\_  $751 - 748 =$  \_\_\_\_\_

6

Finde immer sechs Subtraktionsaufgaben zu den Differenzen.

a)


$251$



b)

$417$





Denke an den Übertrag.

$389 + 525 = \underline{\hspace{2cm}}$

Ü.:  $400 + 500 = 900$

389	
+ 525	
11	
914	

Ich addiere zuerst die Einer, dann die Zehner, dann die Hunderter.

**1** Welcher Überschlag passt? Verbinde erst und rechne dann genau.

Ü.:  $500 + 150 = \underline{\hspace{2cm}}$

Ü.:  $200 + 650 = \underline{\hspace{2cm}}$

Ü.:  $600 + 300 = \underline{\hspace{2cm}}$

Ü.:  $350 + 300 = \underline{\hspace{2cm}}$

Ü.:  $400 + 300 = \underline{\hspace{2cm}}$

a)  $\begin{array}{r} 483 \\ + 157 \\ \hline \end{array}$

b)  $\begin{array}{r} 614 \\ + 278 \\ \hline \end{array}$

c)  $\begin{array}{r} 359 \\ + 292 \\ \hline \end{array}$

d)  $\begin{array}{r} 425 \\ + 319 \\ \hline \end{array}$

e)  $\begin{array}{r} 187 \\ + 643 \\ \hline \end{array}$

**2** Schreibe stellengerecht untereinander und addiere schriftlich.

a)  $347 + 463$

b)  $619 + 236$

c)  $485 + 67$

d)  $103 + 578$

e)  $78 + 256$

**3** Überschlage zuerst, rechne dann genau. Kann dein Ergebnis stimmen? Vergleiche mit deinem Überschlag.

a)  $418 + 359$

b)  $568 + 159$

$227 + 634$

$709 + 254$

$392 + 374$

$485 + 78$

3 a) Ü.:  $400 + 350 = 750$

418	
+ 359	
777	

**4** Überschlage.

Rechne nur die sechs Aufgaben in deinem Heft, deren Summe kleiner als 1000 ist.

a)  $639 + 195$

b)  $476 + 337$

c)  $193 + 748$

d)  $447 + 613$

e)  $627 + 388$

f)  $287 + 634$

g)  $809 + 254$

h)  $821 + 352$

i)  $729 + 182$

j)  $249 + 598$